



平面から「奥行き」を知覚してみよう！


1. 下の四角の中には、●が、奇数行は4文字ごと、偶数行は3文字ごとに描かれています。
2. あなたの目の視点を、紙の手前か、紙の向こう側（奥）に持って行ってみてください。
（わざとピントを「ずらして」みてください。）
3. どのように見えましたか？



これはどうですか？



では、これはどうですか？



☆自分で RDS（ランダム・ドット・ステレオグラム）のようなものを作ってみよう！
下の○を、奇数列は5文字ごと、偶数列は4文字ごとに、黒く塗りつぶしてみてください。

